



# Šumavské šelmy

## Samoobslužný pracovní list pro žáky 2. stupně ZŠ




Přiřaď k šelmám číslo čeledi, do které patří a napiš rodový a druhový název (např. medvěd hnědý - rodový: medvěd, druhový: hnědý).

1. lasicovití

2. kočkovití

3. psovití

4. medvědovití



.....

.....

.....

.....



.....

.....

.....




Vypiš, které velké šelmy byly na Šumavě vyhubeny. U každé uveď letopočet posledního zastřeleného jedince. (nápověda: 1.pol 19. stol., 14.11.1856, 2.12.1874)

.....  
.....  
.....



Šelmy jsou velmi plaché a setkání s nimi je velice vzácné. Jejich přítomnost nám prozradí stopy a další pobytová znamení. Přiřaď stopy k jejich majiteli a napiš, čím se stopy liší od ostatních.







.....

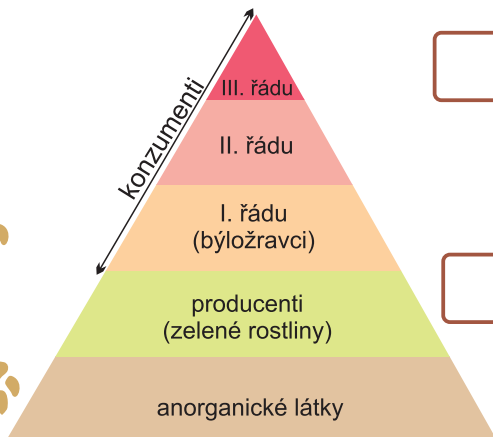
.....

.....

.....



Šelmy patří mezi sekundární konzumenty. Někteří jsou vrcholoví predátoři a stojí tak na vrcholu potravní pyramidy. Ti jsou zpravidla přirozeným nepřítelem pro ostatní šelmy patřící do II. řádu. Napiš k šelmě správný řád, do kterého patří.


 rys ostrovid

 liška obecná

 kočka divoká

 kuna lesní

 vydra říční

 vlk obecný


Šelmy jsou řádem velmi rozmanitým. V České republice se můžeme setkat s šelmičkou, která může mít jen 140 g, a šelmou, která váží až 190 kg. Seřaď šelmy podle jejich váhy od nejmenší po největší (1 - nejmenší, 7 - největší).

